

## דף תרגול מספר 1 לכתה ב'

### משימה 1

השלימו בכל תרגיל את המספר החסר.

$52 + \underline{\quad\quad} = 72$	$11 + \underline{\quad\quad} = 91$
$23 + \underline{\quad\quad} = 53$	$61 + \underline{\quad\quad} = 68$
$23 + \underline{\quad\quad} = 29$	$81 + \underline{\quad\quad} = 87$
$73 + \underline{\quad\quad} = 77$	$55 + \underline{\quad\quad} = 75$
$73 + \underline{\quad\quad} = 83$	$92 + \underline{\quad\quad} = 100$

### משימה 2

לפניכם ספור. כתבו שתי שאלות חשבוניות לספור.

לברק יש 12 עפרונות.

ליוסי יש 18 עפרונות.

יוסי נתן לברק 3 עפרונות.

שאלה 1 : \_\_\_\_\_

שאלה 2 : \_\_\_\_\_

ענו על השאלות שכתבתם:

תשובה 1 : \_\_\_\_\_

תשובה 2 : \_\_\_\_\_

### עבודה נעימה

## דף תרגול מספר 2 לכתה ב'

### משימה 1

השלימו את המספרים החסרים בכל שורה.

		60	65		75			
--	--	----	----	--	----	--	--	--

	14	24						
--	----	----	--	--	--	--	--	--

82				86				
----	--	--	--	----	--	--	--	--

### משימה 2

השלימו את המספרים החסרים בלוחות החבור.

+	30	14	21
4			
6			
5			

+	3	6	9
31			
13			
4			

+	5	8	7
	25		
		48	
60			

### משימה 3

השלימו בכל תרגיל את המספר החסר.

$$14 + 5 = 10 + \underline{\quad}$$

$$12 + 6 = 10 + \underline{\quad}$$

$$13 + 6 = 10 + \underline{\quad}$$

$$14 + 4 = 10 + \underline{\quad}$$

$$11 + 5 = 10 + \underline{\quad}$$

$$12 + 7 = 10 + \underline{\quad}$$

$$17 + 2 = 10 + \underline{\quad}$$

$$13 + 5 = 10 + \underline{\quad}$$

### עבודה נעימה

## דף תרגול מספר 3 לכתה ב'

### משימה 1

השלימו בכל שורה את המספר המתאים בספרות ובמלים.



המספר	גדול ממני ב- 50	המספר במלים
8	58	חמשים ושמונה
17		
32		
40		
48		
50		
15		

### משימה 2

פתרו:

$7 + 5 =$	$5 + 7 =$	$20 + 8 =$	$30 + 6 =$
$17 + 5 =$	$35 + 7 =$	$20 + 18 =$	$90 + 6 =$
$27 + 5 =$	$55 + 7 =$	$30 + 18 =$	$40 + 16 =$
$37 + 5 =$	$85 + 7 =$	$40 + 28 =$	$70 + 26 =$

### משימה 3

העתיקו את המספרים שלפניכם מן הקטן אל הגדול:

28, 15, 36, 90, 51, 63, 34, 95, 62

קטן \_\_\_\_\_ גדול

עבודה נעימה

## דף תרגול מספר 4 לכתה ב'

### משימה 1

השלימו בכל תרגיל מספרים מתאימים.

$$\underline{\quad\quad} + \underline{\quad\quad} + \underline{\quad\quad} = 50$$

$$\underline{\quad\quad} + \underline{\quad\quad} - \underline{\quad\quad} = 50$$

$$\underline{\quad\quad} - \underline{\quad\quad} + \underline{\quad\quad} = 50$$

$$\underline{\quad\quad} - \underline{\quad\quad} - \underline{\quad\quad} = 50$$

### משימה 2

השלימו כל תרגיל בשלוש דרכים שונות.

$$5 + \underline{\quad\quad} = 3 + \underline{\quad\quad}$$

$$16 - \underline{\quad\quad} = 14 - \underline{\quad\quad}$$

$$5 + \underline{\quad\quad} = 3 + \underline{\quad\quad}$$

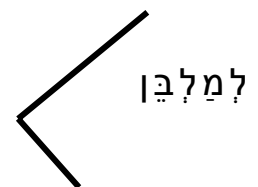
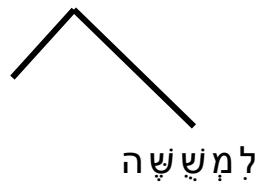
$$16 - \underline{\quad\quad} = 14 - \underline{\quad\quad}$$

$$5 + \underline{\quad\quad} = 3 + \underline{\quad\quad}$$

$$16 - \underline{\quad\quad} = 14 - \underline{\quad\quad}$$

### משימה 3

השלימו:



### עבודה נעימה

## דף תרגול מספר 5 לכתה ב'

### משימה 1

פתרו:

$30-2=$

$30+2=$

$50-4=$

$50+4=$

$60-3=$

$60+3=$

$20-8=$

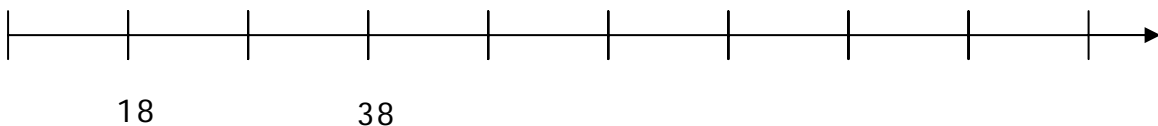
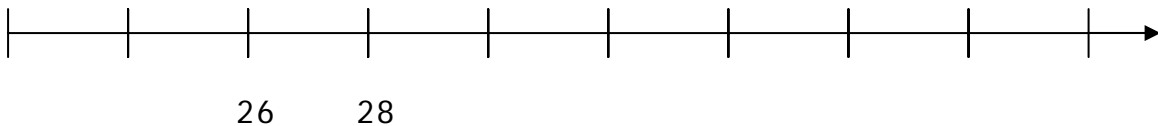
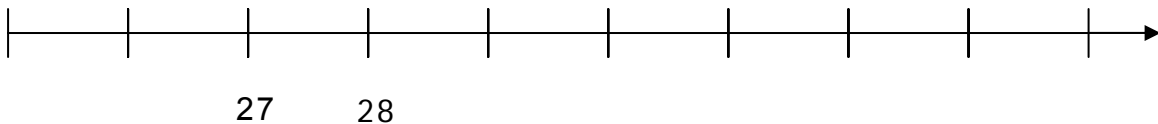
$20+8=$

$80-6=$

$80+6=$

### משימה 2

השלימו מספרים בישר המספרים.



### משימה 3

בכתה יש 20 תלמידים.

מספר הבנות גדול ממספר הבנים.

כתבו אפשריות שונות למספר הבנים ולמספר הבנות בכתה.

					בנות
					בנים
20	20	20	20	20	תלמידים בכתה

### עבודה נעימה

## דף תרגול מספר 6 לכתה ב'

משימה 1

לכל ילד יש 5 בלונים.

כמה בלונים יש ל- 4 ילדים? \_\_\_\_\_

כמה בלונים יש ל- 8 ילדים? \_\_\_\_\_

כמה בלונים יש ל- 10 ילדים? \_\_\_\_\_

משימה 2

פתרו:

$6 + 6 =$

$6 \times 2 =$

$6 \times 4 =$

$6 \times 3 =$

$8 + 8 =$

$8 \times 2 =$

$8 \times 4 =$

$8 \times 3 =$

$7 + 7 =$

$7 \times 2 =$

$7 \times 4 =$

$7 \times 3 =$

$9 + 9 =$

$9 \times 2 =$

$9 \times 4 =$

$9 \times 3 =$

$11 + 11 =$

$11 \times 2 =$

$11 \times 4 =$

$11 \times 3 =$

משימה 3

לפניכם חלקים מלוח המאה.

השלימו את המספרים החסרים.

		37	

		52	

עבודה נעימה

## דף תרגול מספר 7 לכתה ב'

### משימה 1

פתרו:

$15 + 8 =$

$23 + 8 =$

$17 + 4 =$

$26 + 8 =$

$19 + 8 =$

$28 + 9 =$

$14 + 8 =$

$25 + 8 =$

$7 + 16 =$

$27 + 6 =$

### משימה 2

כתבו שאלה חשבונית לכל ספור וענו עליה.

א. על המדף בספרייה יש 30 ספרים ורק אחד מהם הוא ספר שירים.

השאלה: \_\_\_\_\_

תשובה: \_\_\_\_\_

ב. שיר קנתה 24 מסטיקים. לאחר שחלקה מסטיקים לחברים נשארו לה 10 מסטיקים.

השאלה: \_\_\_\_\_

תשובה: \_\_\_\_\_

ג. ילדים שלחו 25 הזמנות למסיבה ונשארו להם עוד 13 הזמנות שהם צריכים לשלוח.

השאלה: \_\_\_\_\_

תשובה: \_\_\_\_\_

### עבודה נעימה

## דף תרגול מספר 8 לכתה ב'


### משימה 1

ענו על השאלות הבאות:

- א. היו לי 16 מחברות. ב-7 מהן השתמשתי. כמה מחברות יש לי עוד?
- ב. אני צריכה 15 צבעים. יש לי כבר 6. כמה צבעים אני צריכה לקנות?
- ג. חסרים 4 צבעים כדי למלא קפסה של 12 צבעים. כמה צבעים יש כבר בקפסה?
- ד. ברפת יש 5 פרות. כמה רגלים יש ברפת?

### משימה 2

- א. כמה סוגים של מדבקות יש בתמונה? \_\_\_\_\_
- ב. כמה מדבקות מכל סוג יש בתמונה? \_\_\_\_\_
- ג. כמה מדבקות יש בסך-הכל בתמונה? \_\_\_\_\_
- ד. כתבו את תרגיל הכפל המתאים כדי לחשב כמה מדבקות בתמונה.



### משימה 3

צבעו:

100	110	120
130	140	150
160	170	180

- א. מספר גדול מ 110 וקטן מ 130.
- ב. מספר קטן מ 110 וגדול מ 99.
- ג. מספר גדול מ- 145 וקטן מ 153.
- ד. מספר גדול מ 175 וקטן מ 185.
- ה. חברו את המספרים שלא צבעתם. מה הסכום שהתקבל? \_\_\_\_\_

עבודה נעימה!



## דף תרגול מספר 9 לכתה ב'

### משימה 1

השלימו את המספר החסר בכל תרגיל:

$$40 = 40 + \underline{\quad}$$

$$32 = \underline{\quad} + 2$$

$$63 = 3 + \underline{\quad}$$

$$57 = 50 + \underline{\quad}$$

$$82 = 80 + \underline{\quad}$$

$$78 = \underline{\quad} + 8$$

$$59 = \underline{\quad} + 9$$

$$99 = \underline{\quad} + 90$$

### משימה 2

השלימו בין כל שני תרגילים את הסימן  $>$  או  $<$  או  $=$ .

$$4 \times 3$$

$$4 \times 6$$

$$32 + 50$$

$$32 + 5$$

$$5 \times 1$$

$$9 \times 1$$

$$58 + 85$$

$$85 + 58$$

$$7 \times 0$$

$$3 \times 0$$

$$23 + 54$$

$$24 + 53$$

$$4 \times 5$$

$$5 \times 4$$

$$90 + 0$$

$$90 + 1$$

### משימה 3

חברו את כל הנקודות

שהמספר שלידן הוא כפולה

של 4.

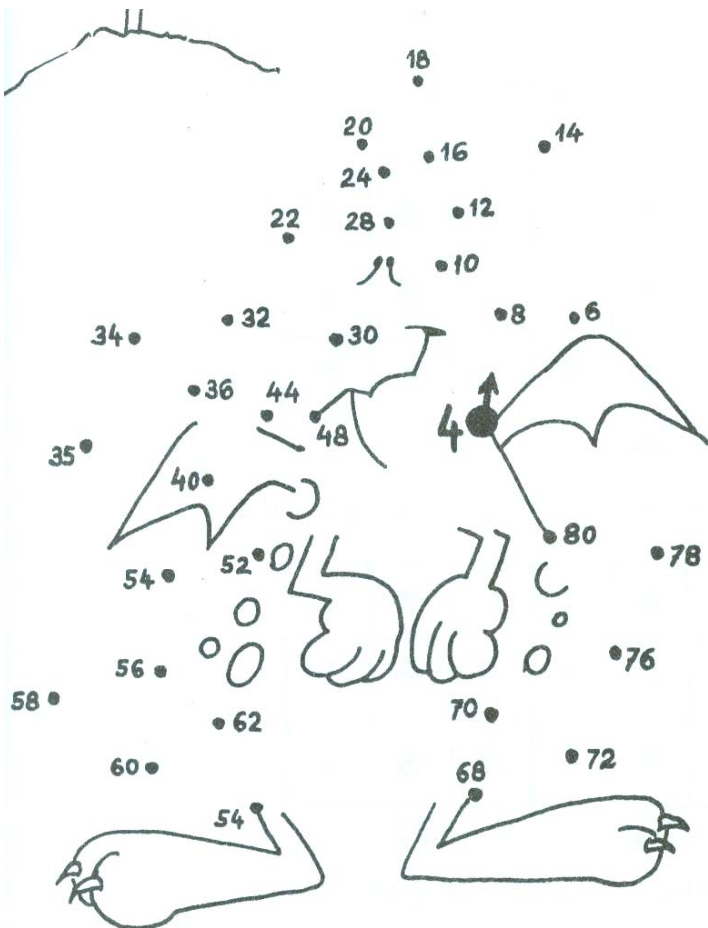
התקדמו לפי הסדר:

4, 8, \_\_\_\_\_

וכך הלאה עד 80.

שימו לב:

יש נקודות מיותרות!



עבודה נעימה

## דף תרגול מספר 10 לכתה ב'

### משימה 1

השלימו את המספר החסר בכל תרגיל (התחילו מהעמודה השמאלית).

$$9 + 3 = 9 + 1 + \underline{\quad}$$

$$72 + 9 = 72 + \underline{\quad} + \underline{\quad}$$

$$17 + 8 = 17 + 3 + \underline{\quad}$$

$$34 + 8 = 34 + \underline{\quad} + \underline{\quad}$$

$$26 + 9 = 26 + \underline{\quad} + 5$$

$$63 + 9 = 63 + \underline{\quad} + \underline{\quad}$$

$$48 + 6 = 48 + \underline{\quad} + 4$$

$$45 + 8 = 45 + \underline{\quad} + \underline{\quad}$$

### משימה 2

השלימו בין כל שני מספרים. סימן חבור או חסור, כך שתקבלו בכל תרגיל תוצאה שונה.

$$45 \quad 35 \quad 25 \quad 10 =$$

$$40 \quad 30 \quad 20 \quad 10 =$$

$$40 \quad 30 \quad 20 \quad 10 =$$

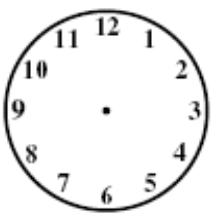
$$40 \quad 30 \quad 20 \quad 10 =$$

### משימה 3

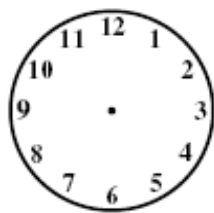
שכזו את המספרים 1,2,3,4 כל מספר 4 פעמים כך, שהסכום בכל הכוונים (בשורה, בטור ובאלכסון) יהיה 10.


### משימה 4

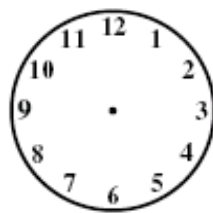
צירו בכל שעון את המחוגים.



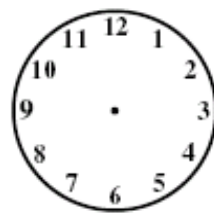
השעה 12



השעה 10



השעה 2



השעה 6

עבודה נעימה!

## דף תרגול מספר 11 לכתה ב'

### משימה 1

בכל מספר חסר סיפרה.  
השלימו ספרות מתאימות:

$16\_ = \_ 61$

$6\_ = \_ 6$

$5\_ = 5\_$

$16\_ > \_ 61$

$6\_ > \_ 6$

$5\_ > 5\_$

$16\_ < \_ 61$

$6\_ < \_ 6$

$5\_ < 5\_$

### משימה 2

לפניכם חלק מלוח המאה. השלימו את המספרים החסרים.

64	65				

### משימה 3

השלימו את המספרים החסרים בלוחות הכפל.

x	2	3	0
4			
3			
5			

x	3	1	2
1			
2			
6			

x	0	1	10
0			
1			
10			

### עבודה נעימה



## דף תרגול מס' 12 לכתה ב'

1) כתבו את הסימן המתאים ( $>$  או  $<$  או  $=$ ) בלי לחשב את תוצאות התרגילים.

א. $53 + 19$ ___ $53 + 8$	ב. $53 + 28$ ___ $93 + 28$
ג. $53 + 76$ ___ $76 + 53$	ד. $53 - 8$ ___ $53 + 8$
ה. $53 - 19$ ___ $53 - 27$	ו. $72 - 17$ ___ $64 - 17$

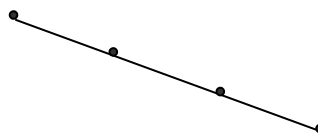
2) עדי רוצה לחלק 13 גולות לשתי צנצנות. כמה גולות יהיו בכל צנצנת? כתבו אפשריות שונות.



									מספר הגולות בצנצנת הראשונה
									מספר הגולות בצנצנת השנייה

כמה גולות שמה עדי בכל צנצנת, אם ההפרש בין שתי הכמויות שווה ל-5?

3) כמה קטעים תוכלו למצוא?



## דף תרגול 13 – כיתה ב

1. החסרנו מספר מסוים מהמספר 50 וקבלנו הפרש גדול מ- 20.

מהו המספר? בחרו במספר המתאים:

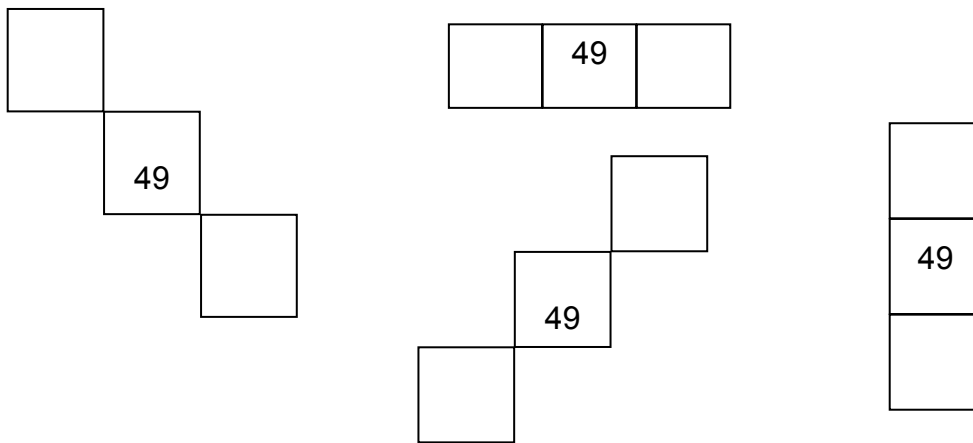
א) 30      ב) 35      ג) 17      ד) 45

2. החסרנו מספר מסוים מהמספר 50 וקבלנו הפרש קטן מ- 20.

מהו המספר? בחרו במספר המתאים:

א) 37      ב) 20      ג) 9      ד) 30

3. נתונות תבניות מלוח המאה. השלימו את המספרים החסרים:



4. עדי סחטה 3 תפוזים כדי להכין כוס מיץ אחת.

א) כמה תפוזים היא תצטרך כדי להכין 4 כוסות מיץ?

ב) כמה כוסות מיץ היא תוכל להכין מ- 18 תפוזים?

5. חשבו מה הם השטח וההיקף של כל צורה:

